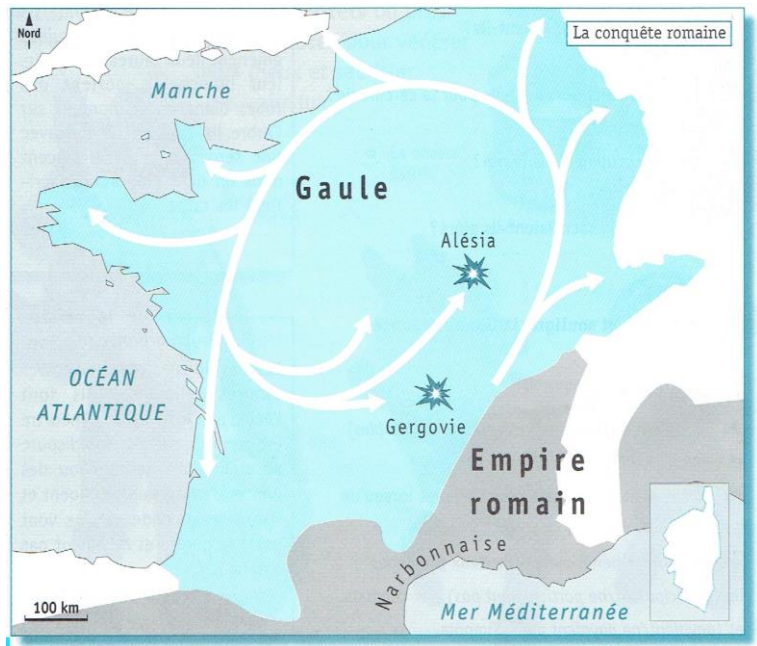


## 1/ La conquête de la Gaule par les Romains

A côté de la Gaule se trouvait l'Empire romain avec Rome pour capitale. Les Romains dominaient le pourtour de la Méditerranée.

Attirés par les richesses de la Gaule, les Romains, dirigés par le général Jules César, se lancèrent à sa conquête en 52 av JC.

Plusieurs tribus gauloises, unies sous la direction de Vercingétorix vainquirent les Romains à Gergovie. Mais quelques semaines plus tard, elles furent vaincues à Alésia après un siège de deux mois.



### 1 Complète la légende de la carte




\_\_\_\_\_



\_\_\_\_\_



\_\_\_\_\_



mouvement des troupes romaines

### 2 Réponds aux questions

- 1) Qui dirige l'armée gauloise ? \_\_\_\_\_
- 2) Qui dirige l'armée romaine ? \_\_\_\_\_
- 3) Où et quand les Gaulois ont-ils perdu contre les Romains ? \_\_\_\_\_

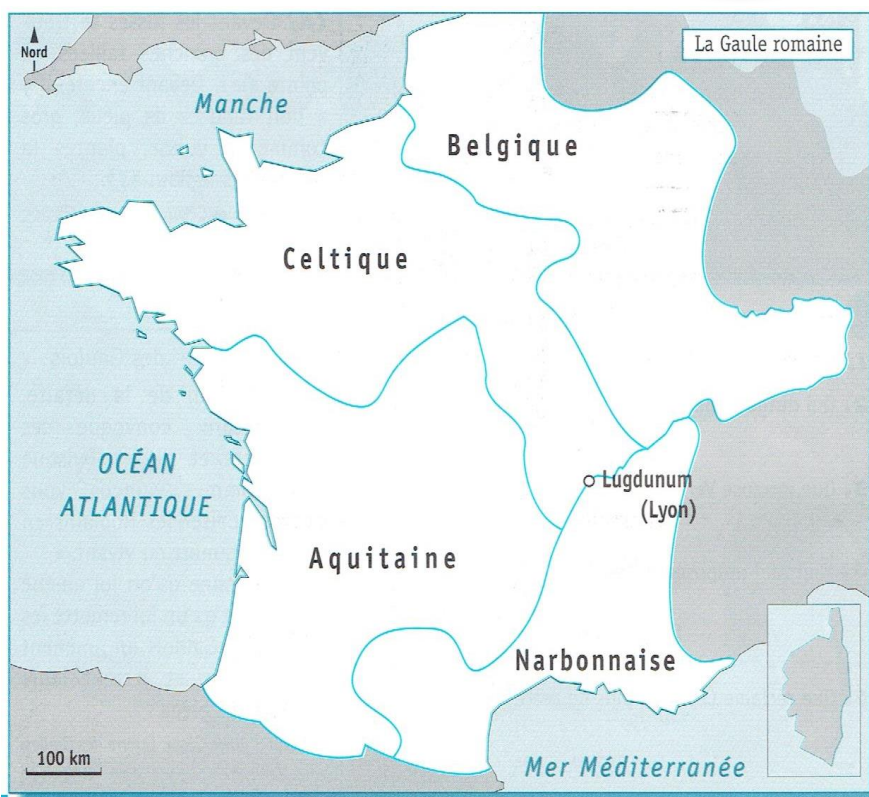
## 2/ La Gaule romaine

Après sa défaite, la Gaule devint une province romaine. Les Romains construisent des fortifications pour protéger les pays des invasions, des routes pour faciliter le déplacement de l'armée ainsi que des ponts et des ports pour développer le commerce. Ils édifièrent des villes sur le modèle de Rome. De nombreux Gaulois se mirent à parler latin et adoptèrent le mode de vie des Romains : on les appelait les Gallo-Romains.

### 3 Réponds aux questions

- 1) Qu'on construit les Romains ? \_\_\_\_\_
- 2) Comment s'appelle ce nouveau peuple ? \_\_\_\_\_
- 3) Pourquoi ? \_\_\_\_\_

## L'Antiquité



## 3 Sur la carte ci-contre

1) Colorie d'une couleur différente chaque province romaine.

2) Comment s'appelaient-elles ?

\_\_\_\_\_

\_\_\_\_\_

3) La province au sud-est de la Gaule était une province romaine depuis 123 av JC. Ecris son nom :

\_\_\_\_\_

4) Une ville à la frontière entre la Narbonnaise et la Celtique devient la capitale des Gaules.


Comment s'appelait-elle à l'époque ?

\_\_\_\_\_

Comment s'appelle-t-elle aujourd'hui ? \_\_\_\_\_

## 4 Complète la frise chronologique en écrivant au bon endroit :

Gaule celtique - Gaule romaine - Alésia



## 3/ La vie dans les campagnes

*A l'époque gallo-romaine, la majorité des Gaulois vivaient à la campagne. Ils produisaient du blé, du vin, des olives et des fruits et élevaient des animaux pour le lait et la viande.*


*La plupart des paysans continuaient à vivre simplement, comme avant la conquête romaine. En revanche, les plus riches propriétaires ont adopté le mode de vie des Romains. Ils ont construit de grandes fermes appelées « villas ». Ils y faisaient travailler des esclaves et vendaient leurs produits aux Romains. Ils sont devenus citoyens romains.*

## 5 Vrai ou faux ?

- 1) Très peu de Gaulois vivaient à la campagne. \_\_\_\_\_
- 2) Ils mangeaient des fruits, des légumes et des céréales qu'ils achetaient. \_\_\_\_\_
- 3) Ce sont les plus riches qui se sont mis à vivre comme les Romains. \_\_\_\_\_
- 4) Ils ont construit des villas. \_\_\_\_\_



4 Entoure les bonne propositions en observant le dessin.



La villa était (vaste / petite), constituée de (nombreux / très peu de) bâtiments. C'était une habitation (luxueuse/pauvre).

Le propriétaire (travaillait seul / faisait travailler ses esclaves)

Il cultivait (du blé / du riz), (de la vigne / des ananas), (des oliviers / des platanes).

Il élevait (des moutons / des lamas), (des bisons / des bœufs)

Il s'habillait à la mode romaine, avec (une toge / des braies) et des (bottes / sandales)

Les récoltes étaient transportées (sur des chariots / sur des trains) vers la ville pour être (vendues / brûlées)

## 4/ La vie dans les villes

On construit des villes sur le modèle de Rome. Leur plan était régulier, avec au centre le forum, place publique sur laquelle on se retrouvait pour débattre des affaires publiques.

\* Les rues étaient pavées, on trouvait un peu partout des fontaines ; des égouts permettaient d'évacuer les eaux usées.

\* Ces villes offraient de nombreuses activités de loisirs : des théâtres, des cirques ou des arènes, des thermes...



5 Réponds aux questions :


- 1) Sur quelle ville modèle construisait-on les villes ? \_\_\_\_\_
- 2) Qu'y avait-il au centre des villes ? \_\_\_\_\_
- 3) Comment étaient le sol dans les rues ? \_\_\_\_\_
- 4) Quelles étaient les activités que l'on trouvait dans les villes ? \_\_\_\_\_




## L'Antiquité

6 Ecris son nom sous chaque monument.


aqueduc\* - théâtre - arènes\* - arc de triomphe\* - temple\*




a \_\_\_\_\_




b \_\_\_\_\_



c \_\_\_\_\_



d \_\_\_\_\_



e \_\_\_\_\_

## Lexique

**Siège (d'une ville)** : l'encercllement d'une ville par une armée, de façon à empêcher tout contact avec l'extérieur et obliger les habitants à se rendre quand ils n'ont plus rien à manger.

**fortifications** : des murs, des remparts qui protègent un lieu d'éventuels attaquants

**Le Latin** : la langue des Romains

**Théâtre** : lieu où les spectateurs assistent à des spectacles

**Cirque** : édifice circulaire dans lequel ont lieu des jeux ou spectacle

**Arènes** : grand édifice circulaire dans lequel ont lieu des jeux ou épreuves sportives

**Thermes** : bains publics

**Aqueduc** : canal servant à conduire l'eau d'un cours d'eau vers un lieu (une ville par exemple)

**Arc de triomphe** : monument en forme d'arche qui célèbre une victoire militaire ou la grandeur d'un homme.

**Temple** : bâtiment dans lequel on vénère des dieux